

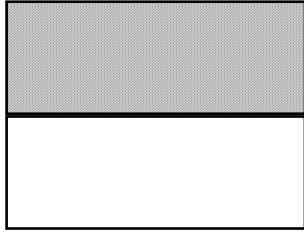
POINTS DE DEPART

TABLETTE DE CHOCOLAT

Cette tablette de chocolat pèse 200g. Tu as besoin de 75 g .

Que prends-tu ?

MOITIE

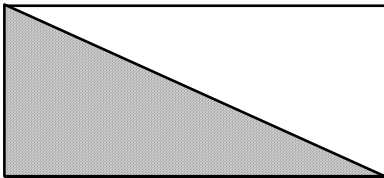


La partie hachurée **est** la moitié
de ce rectangle



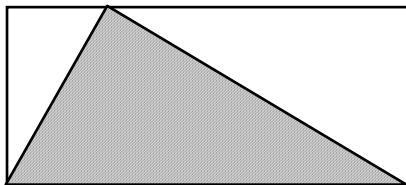
La partie hachurée **est** la moitié
de ce rectangle

1



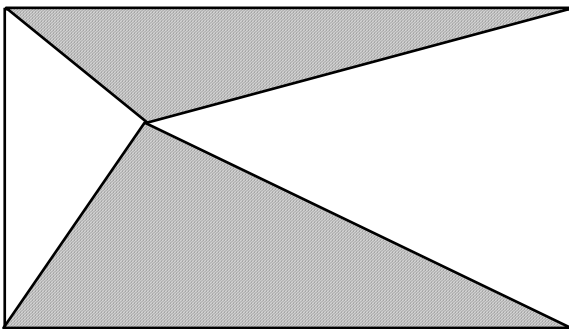
La partie hachurée **est-elle** la moitié
du rectangle ?

2



La partie hachurée **est-elle** la moitié
du rectangle ?

3



La partie hachurée **est-elle** la
moitié du rectangle ?