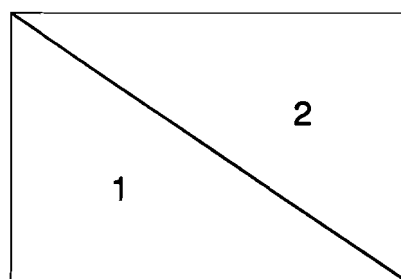


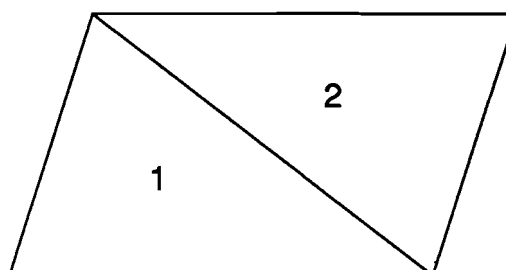
ACTIVITE... COMPARONS LES AIRES

Philibert CLAPPONI
IREM de Grenoble

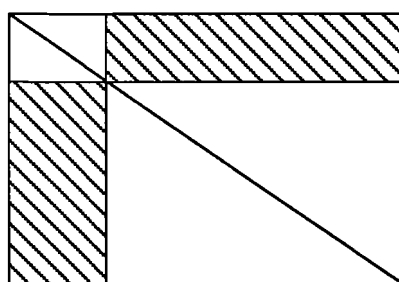
Les aires 1 et 2 sont-elles égales ?
Quels arguments donnerais-tu pour convaincre ?



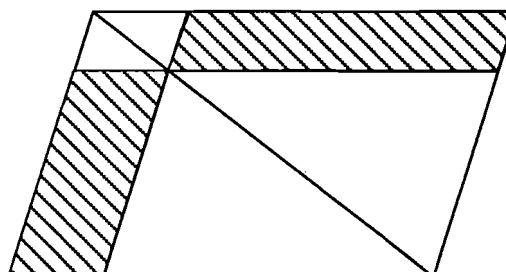
Les aires 1 et 2 sont-elles égales ?
Quels arguments donnerais-tu pour convaincre ?



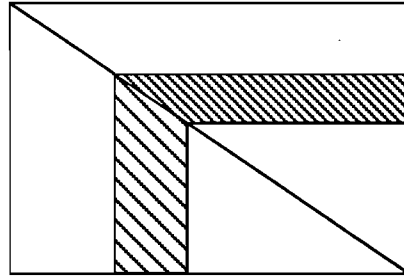
Les aires hachurées sont-elles égales ?
Comment peux-tu être sûr(e) de ton résultat ?



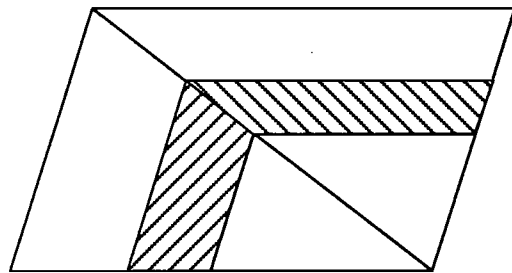
Les aires hachurées sont-elles égales ?
Comment peux-tu être sûr(e) de ton résultat ?



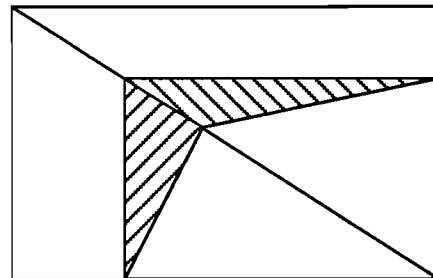
Les aires hachurées sont-elles égales ?
 Comment peux-tu être sûr(e) de ton
 résultat ?



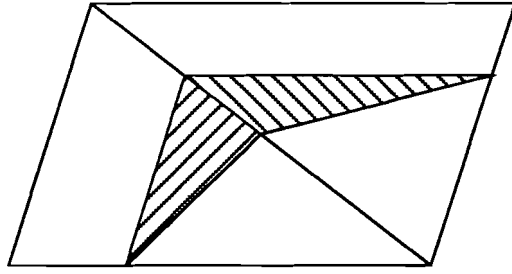
Les aires hachurées sont-elles égales ?
 Comment peux-tu être sûr(e) de ton
 résultat ?



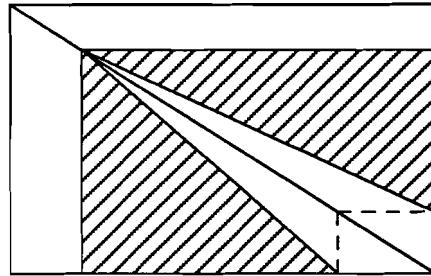
Les aires hachurées sont-elles égales ?
 Comment peux-tu être sûr(e) de ton
 résultat ?



Les aires hachurées sont-elles égales ?
Comment peux-tu être sûr(e) de ton résultat ?



Les aires hachurées sont-elles égales ?
Comment peux-tu être sûr(e) de ton résultat ?



Les aires hachurées sont-elles égales ?
Comment peux-tu être sûr(e) de ton résultat ?

