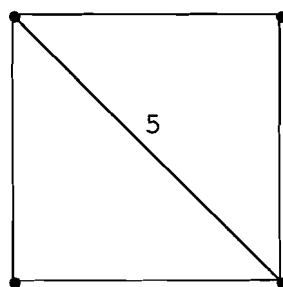


ACTIVITÉ... CARRES, RECTANGLES

Philibert CLAPPONI
IREM de Grenoble


1

Construis un carré dont la diagonale mesure 5 centimètres.
Explique ton programme de construction.



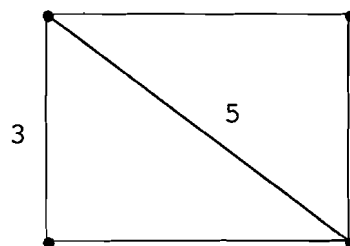
2

Marque un point I. Dessine un carré de centre I et de côté 6 cm.
Explique ta construction.



3

Construis un rectangle dont la diagonale mesure 5 cm et un côté mesure 3 cm.
Explique ta construction.



4 Construis un rectangle en respectant les indications de la figure.
Explique ta construction.

